

NOMBRE: _____

GRUPO: _____ FECHA: _____



Figuras geométricas

Recorta las imágenes y los textos y pégalos donde corresponde.

CÍRCULO

Pega aquí
la foto

Pega aquí
el texto

CUADRADO

Pega aquí
la foto

Pega aquí
el texto


TRIANGULO

Pega aquí
la foto

Pega aquí
el texto

RECTÁNGULO

Pega aquí
la foto



Los 4 lados
miden lo mismo
y son paralelos
dos a dos.



Se realiza trazando
una curva que está
siempre a la misma
distancia de un
punto que
llamamos centro.



Es un polígono
de 4 lados. Los
lados opuestos
son paralelos
y de igual
longitud.



Es un
polígono de
tres lados.

NOMBRE: _____

GRUPO: _____ FECHA: _____



Figuras geométricas

Recorta las imágenes y los textos y pégalos donde corresponde.

TRAPECIO

Pega aquí
la foto

Pega aquí
el texto

ROMBO

Pega aquí
la foto

Pega aquí
el texto

PENTÁGONO

Pega aquí
la foto

Pega aquí
el texto

HEXÁGONO

Pega aquí
la foto



Figura de cuatro lados que tiene todos sus lados de una misma longitud.



Figura compuesta por cinco bordes o lados y el mismo número de ángulos.



Figura compuesta por seis bordes o lados y el mismo número de ángulos.





Cuadrilátero con un par de lados opuestos paralelos.





NOMBRE: _____
GRUPO: _____ FECHA: _____

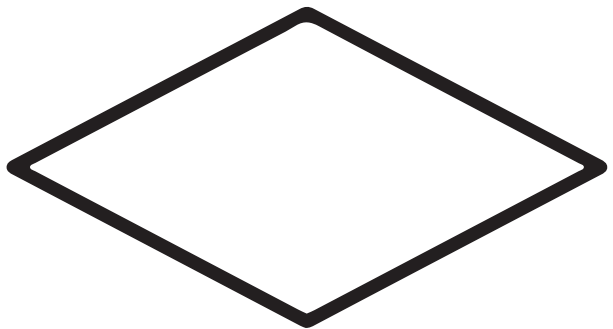
Colorea y escribe el nombre de cada figura.




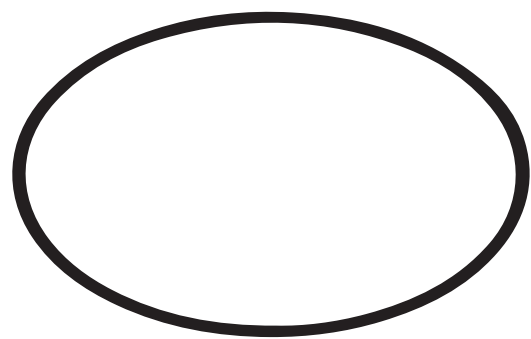




























NOMBRE: _____

GRUPO: _____ FECHA: _____

Colorea de rojo los círculos, de verde los cuadrados, de naranja los rectángulos y de azul los triángulos.





NOMBRE: _____
GRUPO: _____ FECHA: _____

Colorea la opción correcta.

La figura que aparece es...



- CUADRADO TRIÁNGULO ROMBO

La figura que aparece es...



- PENTÁGONO CUADRADO ROMBO

La figura que aparece es...



- TRAPECIO TRIÁNGULO ROMBO

La figura que aparece es...



- CIRCULO TRIÁNGULO RECTANGULO

La figura que aparece es...



- CUADRADO CIRCULO ROMBO

La figura que aparece es...






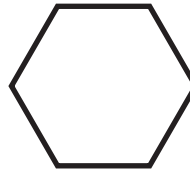

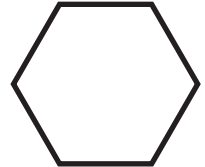


- TRIANGULO CIRCULO TRAPECIO




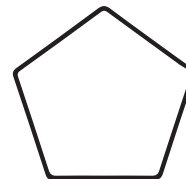


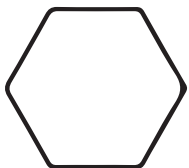
NOMBRE: _____

GRUPO: _____ FECHA: _____

Colorea del mismo color las figuras que sean iguales.



Dibuja y ordena las figuras según la mayor cantidad de lados.



| | | | | | |
|--|--|--|--|--|--|
| | | | | | |
|--|--|--|--|--|--|