

2da
EDICIÓN

CUADERNILLO DE Tablas de multiplicar



MATERIAL
PARA MAESTROS

MARCA REGISTRADA. TODOS LOS DERECHOS RESERVADOS

Tabla del 2

Colorea las manzanas de los resultados de la tabla del 2.

Completa la tabla del 2.

$2 \times 1 = \square$

$2 \times 2 = \square$

$2 \times 3 = \square$

$2 \times 4 = \square$

$2 \times 5 = \square$



$2 \times 6 = \square$

$2 \times 7 = \square$

$2 \times 8 = \square$

$2 \times 9 = \square$

$2 \times 10 = \square$



Ayuda al perro a llegar a su comida completando la serie del 2.





Tabla del 2

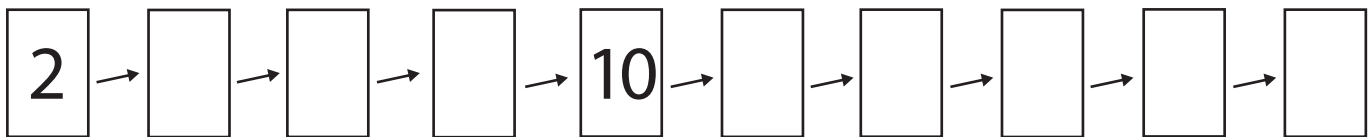
Tabla del




Completa la rueda.



Completa la secuencia de los multiples del 2.



Colorea los multiples del 2.



Resuelve las operaciones.

- $2 \times 6 = \underline{\hspace{2cm}}$
- $2 \times 2 = \underline{\hspace{2cm}}$
- $2 \times 3 = \underline{\hspace{2cm}}$
- $2 \times 9 = \underline{\hspace{2cm}}$
- $2 \times 1 = \underline{\hspace{2cm}}$
- $2 \times 5 = \underline{\hspace{2cm}}$
- $2 \times 8 = \underline{\hspace{2cm}}$
- $2 \times 4 = \underline{\hspace{2cm}}$
- $2 \times 7 = \underline{\hspace{2cm}}$
- $2 \times 10 = \underline{\hspace{2cm}}$

Tabla del 3

Colorea los círculos de los resultados de la tabla del 3.

Completa la tabla del 2.

$3 \times 1 = \square$

$3 \times 2 = \square$

$3 \times 3 = \square$

$3 \times 4 = \square$

$3 \times 5 = \square$

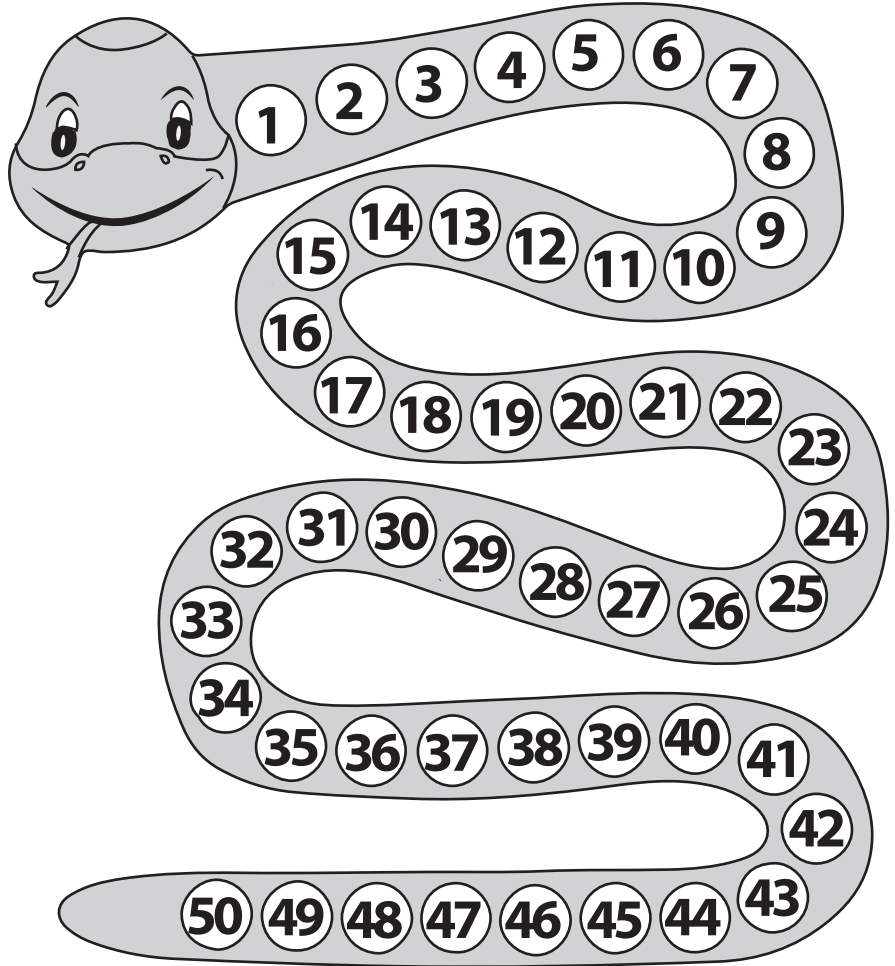
$3 \times 6 = \square$

$3 \times 7 = \square$


$3 \times 8 = \square$

$3 \times 9 = \square$

$3 \times 10 = \square$



©www.materialparamaestros.com



Ayuda al mono a llegar a su comida completando la serie del 3.






Tabla del 3

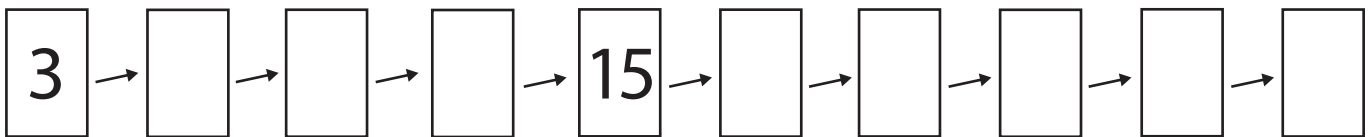
Tabla del




Completa la rueda.



Completa la secuencia de los multiples del 3.



Colorea los multiples del 3.



Resuelve las operaciones.

- $3 \times 6 = \underline{\hspace{2cm}}$
- $3 \times 2 = \underline{\hspace{2cm}}$
- $3 \times 3 = \underline{\hspace{2cm}}$
- $3 \times 9 = \underline{\hspace{2cm}}$
- $3 \times 1 = \underline{\hspace{2cm}}$
- $3 \times 5 = \underline{\hspace{2cm}}$
- $3 \times 8 = \underline{\hspace{2cm}}$
- $3 \times 4 = \underline{\hspace{2cm}}$
- $3 \times 7 = \underline{\hspace{2cm}}$
- $3 \times 10 = \underline{\hspace{2cm}}$

Tabla del 4

Colorea los bagones de los resultados de la tabla del 4.

Completa la tabla del 4.

$4 \times 1 = \square$

$4 \times 2 = \square$

$4 \times 3 = \square$

$4 \times 4 = \square$

$4 \times 5 = \square$


$4 \times 6 = \square$

$4 \times 7 = \square$

$4 \times 8 = \square$

$4 \times 9 = \square$

$4 \times 10 = \square$



Ayuda al oso a llegar a su comida completando la serie del 4.


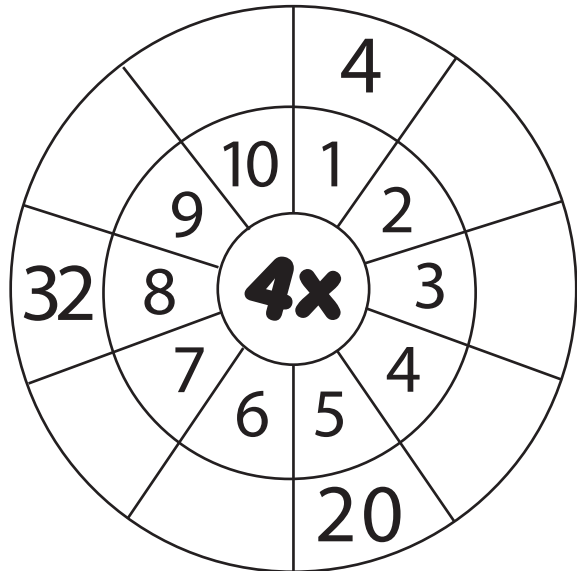


Tabla del 4

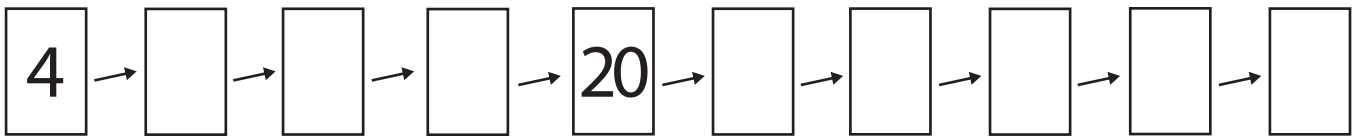
Tabla del




Completa la rueda.



Completa la secuencia de los multiples del 4.



Colorea los multiples del 4.



Resuelve las operaciones.


- $4 \times 6 = \underline{\hspace{2cm}}$
- $4 \times 2 = \underline{\hspace{2cm}}$
- $4 \times 3 = \underline{\hspace{2cm}}$
- $4 \times 9 = \underline{\hspace{2cm}}$
- $4 \times 1 = \underline{\hspace{2cm}}$
- $4 \times 5 = \underline{\hspace{2cm}}$
- $4 \times 8 = \underline{\hspace{2cm}}$
- $4 \times 4 = \underline{\hspace{2cm}}$
- $4 \times 7 = \underline{\hspace{2cm}}$
- $4 \times 10 = \underline{\hspace{2cm}}$

Tabla del 5

Colorea los helados de los resultados de la tabla del 5.

Completa la tabla del 5.

- $5 \times 1 =$
- $5 \times 2 =$
- $5 \times 3 =$
- $5 \times 4 =$
- $5 \times 5 =$
- $5 \times 6 =$
- $5 \times 7 =$
- $5 \times 8 =$
- $5 \times 9 =$
- $5 \times 10 =$



Ayuda al caracol a llegar a la meta completando la serie del 5.


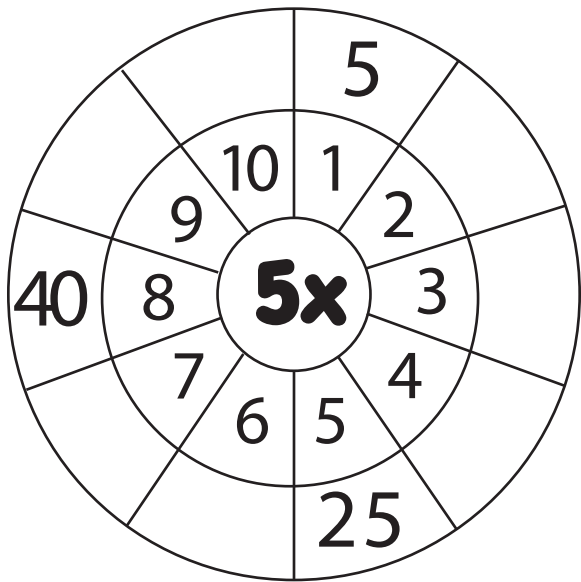


Tabla del 5

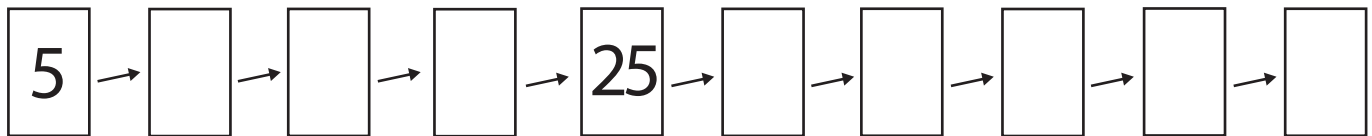
Tabla del




Completa la rueda.



Completa la secuencia de los multiples del 5.



Colorea los multiples del 5.



Resuelve las operaciones.

- $5 \times 6 = \underline{\quad\quad}$
- $5 \times 2 = \underline{\quad\quad}$
- $5 \times 3 = \underline{\quad\quad}$
- $5 \times 9 = \underline{\quad\quad}$
- $5 \times 1 = \underline{\quad\quad}$
- $5 \times 5 = \underline{\quad\quad}$
- $5 \times 8 = \underline{\quad\quad}$
- $5 \times 4 = \underline{\quad\quad}$
- $5 \times 7 = \underline{\quad\quad}$
- $5 \times 10 = \underline{\quad\quad}$

Tabla del 6

Completa la tabla del 6.

$6 \times 1 = \square$

$6 \times 2 = \square$

$6 \times 3 = \square$

$6 \times 4 = \square$

$6 \times 5 = \square$

$6 \times 6 = \square$

$6 \times 7 = \square$

$6 \times 8 = \square$


$6 \times 9 = \square$

$6 \times 10 = \square$

Colorea los cuadros según los resultados de la tabla del 6.

1	2	3	4	5	6	7	8	9	10
11	12	13	14	15	16	17	18	19	20
21	22	23	24	25	26	27	28	29	30
31	32	33	34	35	36	37	38	39	40
41	42	43	44	45	46	47	48	49	50
51	52	53	54	55	56	57	58	59	60
61	62	63	64	65	66	67	68	69	70
71	72	73	74	75	76	77	78	79	80
81	82	83	84	85	86	87	88	89	90
91	92	93	94	95	96	97	98	99	100

©www.materialparamaestros.com



Ayuda al ratón a llegar a su comida completando la serie del 6.




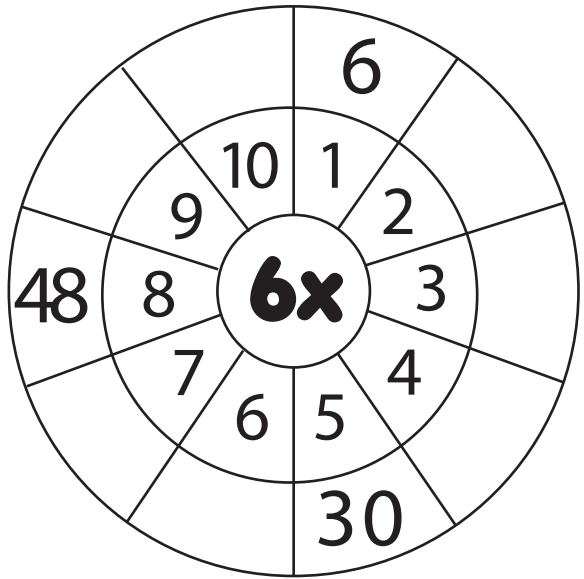


Tabla del 6

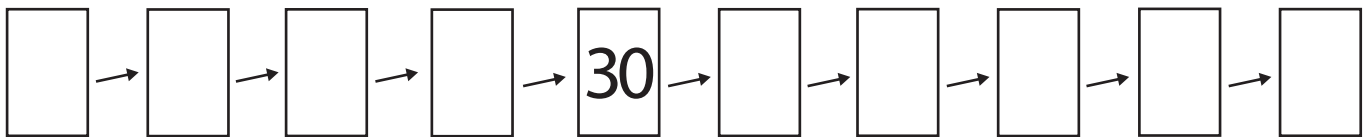
Tabla del




Completa la rueda.



Completa la secuencia de los multiples del 6.



6 Colorea los multiples del 6.



Resuelve las operaciones.

$$\begin{aligned} 6 \times 6 &= \underline{\hspace{2cm}} \\ 6 \times 2 &= \underline{\hspace{2cm}} \\ 6 \times 3 &= \underline{\hspace{2cm}} \\ 6 \times 9 &= \underline{\hspace{2cm}} \\ 6 \times 1 &= \underline{\hspace{2cm}} \\ 6 \times 5 &= \underline{\hspace{2cm}} \\ 6 \times 8 &= \underline{\hspace{2cm}} \\ 6 \times 4 &= \underline{\hspace{2cm}} \\ 6 \times 7 &= \underline{\hspace{2cm}} \\ 6 \times 10 &= \underline{\hspace{2cm}} \end{aligned}$$

Tabla del 7

Completa la tabla del 7.

$7 \times 1 = \square$

$7 \times 2 = \square$

$7 \times 3 = \square$

$7 \times 4 = \square$

$7 \times 5 = \square$

$7 \times 6 = \square$

$7 \times 7 = \square$

$7 \times 8 = \square$


$7 \times 9 = \square$

$7 \times 10 = \square$

Colorea los cuadros según los resultados de la tabla del 7.

1	2	3	4	5	6	7	8	9	10
11	12	13	14	15	16	17	18	19	20
21	22	23	24	25	26	27	28	29	30
31	32	33	34	35	36	37	38	39	40
41	42	43	44	45	46	47	48	49	50
51	52	53	54	55	56	57	58	59	60
61	62	63	64	65	66	67	68	69	70
71	72	73	74	75	76	77	78	79	80
81	82	83	84	85	86	87	88	89	90
91	92	93	94	95	96	97	98	99	100

©www.materialparamaestros.com



Ayuda a la araña a llegar a su telaraña completando la serie del 7.






Tabla del 7

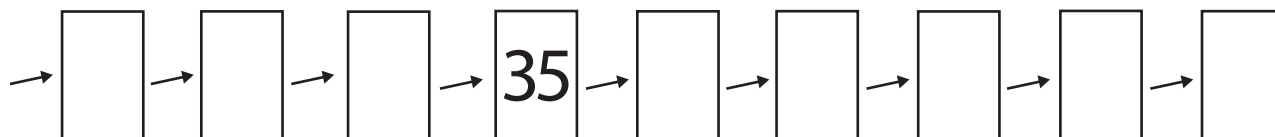
Tabla del




Completa la rueda.



Completa la secuencia de los multiples del 7.



Colorea los multiples del 7.



Resuelve las operaciones.

- $7 \times 6 = \underline{\hspace{2cm}}$
- $7 \times 2 = \underline{\hspace{2cm}}$
- $7 \times 3 = \underline{\hspace{2cm}}$
- $7 \times 9 = \underline{\hspace{2cm}}$
- $7 \times 1 = \underline{\hspace{2cm}}$
- $7 \times 5 = \underline{\hspace{2cm}}$
- $7 \times 8 = \underline{\hspace{2cm}}$
- $7 \times 4 = \underline{\hspace{2cm}}$
- $7 \times 7 = \underline{\hspace{2cm}}$
- $7 \times 10 = \underline{\hspace{2cm}}$

Tabla del 8

Completa la tabla del 8.

$8 \times 1 = \square$

$8 \times 2 = \square$

$8 \times 3 = \square$

$8 \times 4 = \square$

$8 \times 5 = \square$

$8 \times 6 = \square$

$8 \times 7 = \square$

$8 \times 8 = \square$

$8 \times 9 = \square$

$8 \times 10 = \square$

Colorea los cuadros según los resultados de la tabla del 8.

1	2	3	4	5	6	7	8	9	10
11	12	13	14	15	16	17	18	19	20
21	22	23	24	25	26	27	28	29	30
31	32	33	34	35	36	37	38	39	40
41	42	43	44	45	46	47	48	49	50
51	52	53	54	55	56	57	58	59	60
61	62	63	64	65	66	67	68	69	70
71	72	73	74	75	76	77	78	79	80
81	82	83	84	85	86	87	88	89	90
91	92	93	94	95	96	97	98	99	100

©www.materialparamaestros.com



Ayuda al pajarito a llegar a su nido completando la serie del 8.




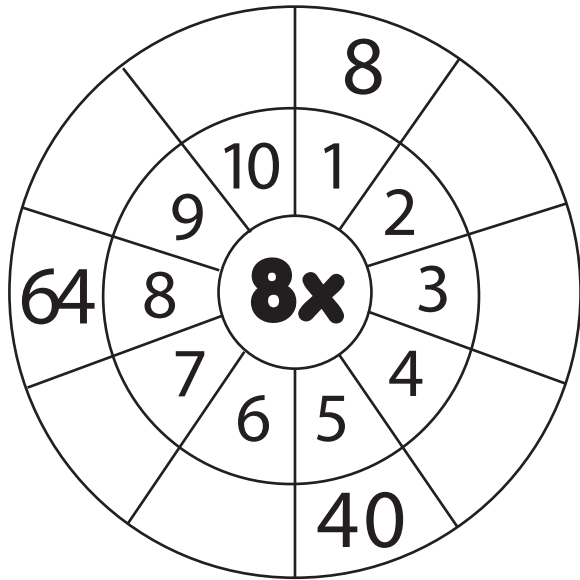


Tabla del 8

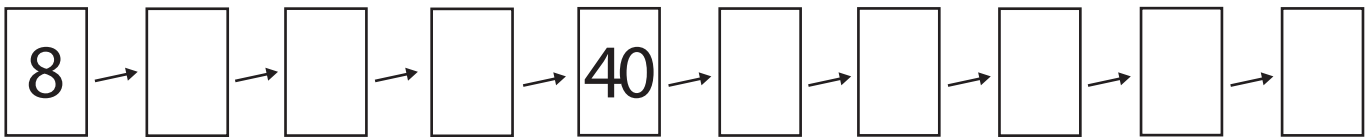
Tabla del




Completa la rueda.



Completa la secuencia de los multiples del 8.



Colorea los multiples del 8.



Resuelve las operaciones.

- $8 \times 6 = \underline{\hspace{2cm}}$
- $8 \times 2 = \underline{\hspace{2cm}}$
- $8 \times 3 = \underline{\hspace{2cm}}$
- $8 \times 9 = \underline{\hspace{2cm}}$
- $8 \times 1 = \underline{\hspace{2cm}}$
- $8 \times 5 = \underline{\hspace{2cm}}$
- $8 \times 8 = \underline{\hspace{2cm}}$
- $8 \times 4 = \underline{\hspace{2cm}}$
- $8 \times 7 = \underline{\hspace{2cm}}$
- $8 \times 10 = \underline{\hspace{2cm}}$

Tabla del 9

Completa la tabla del 9.

$9 \times 1 = \square$

$9 \times 2 = \square$

$9 \times 3 = \square$

$9 \times 4 = \square$

$9 \times 5 = \square$

$9 \times 6 = \square$

$9 \times 7 = \square$

$9 \times 8 = \square$


$9 \times 9 = \square$

$9 \times 10 = \square$

Colorea los cuadros según los resultados de la tabla del 9.

1	2	3	4	5	6	7	8	9	10
11	12	13	14	15	16	17	18	19	20
21	22	23	24	25	26	27	28	29	30
31	32	33	34	35	36	37	38	39	40
41	42	43	44	45	46	47	48	49	50
51	52	53	54	55	56	57	58	59	60
61	62	63	64	65	66	67	68	69	70
71	72	73	74	75	76	77	78	79	80
81	82	83	84	85	86	87	88	89	90
91	92	93	94	95	96	97	98	99	100

©www.materialparamaestros.com



Ayuda a la abeja a llegar a su panal completando la serie del 9.






Tabla del 9

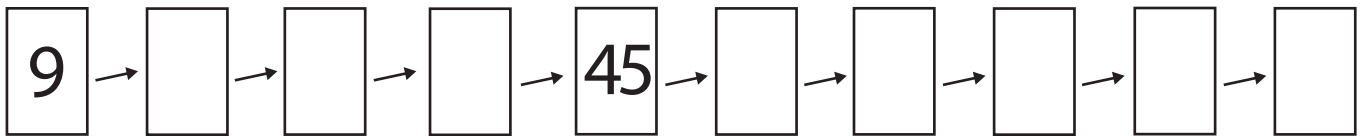
Tabla del




Completa la rueda.



Completa la secuencia de los multiplos del 9.



Colorea los multiplos del 9.



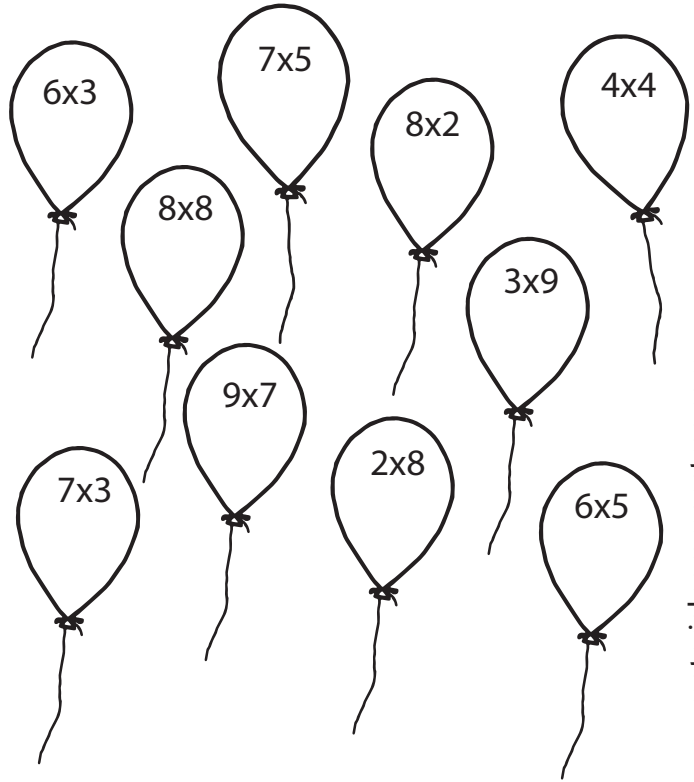
Resuelve las operaciones.

$$\begin{aligned} 9 \times 6 &= \underline{\hspace{2cm}} \\ 9 \times 2 &= \underline{\hspace{2cm}} \\ 9 \times 3 &= \underline{\hspace{2cm}} \\ 9 \times 9 &= \underline{\hspace{2cm}} \\ 9 \times 1 &= \underline{\hspace{2cm}} \\ 9 \times 5 &= \underline{\hspace{2cm}} \\ 9 \times 8 &= \underline{\hspace{2cm}} \\ 9 \times 4 &= \underline{\hspace{2cm}} \\ 9 \times 7 &= \underline{\hspace{2cm}} \\ 9 \times 10 &= \underline{\hspace{2cm}} \end{aligned}$$

Une la multiplicación con su resultado.


$3 \times 4 =$	60
$5 \times 8 =$	20
$3 \times 6 =$	12
$6 \times 10 =$	27
$4 \times 5 =$	36
$9 \times 4 =$	40
$10 \times 7 =$	48
$5 \times 9 =$	45
$8 \times 6 =$	18
$9 \times 3 =$	70

Escribe el resultado de las multiplicaciones y colorea los globos.



©www.materialparamaestros.com

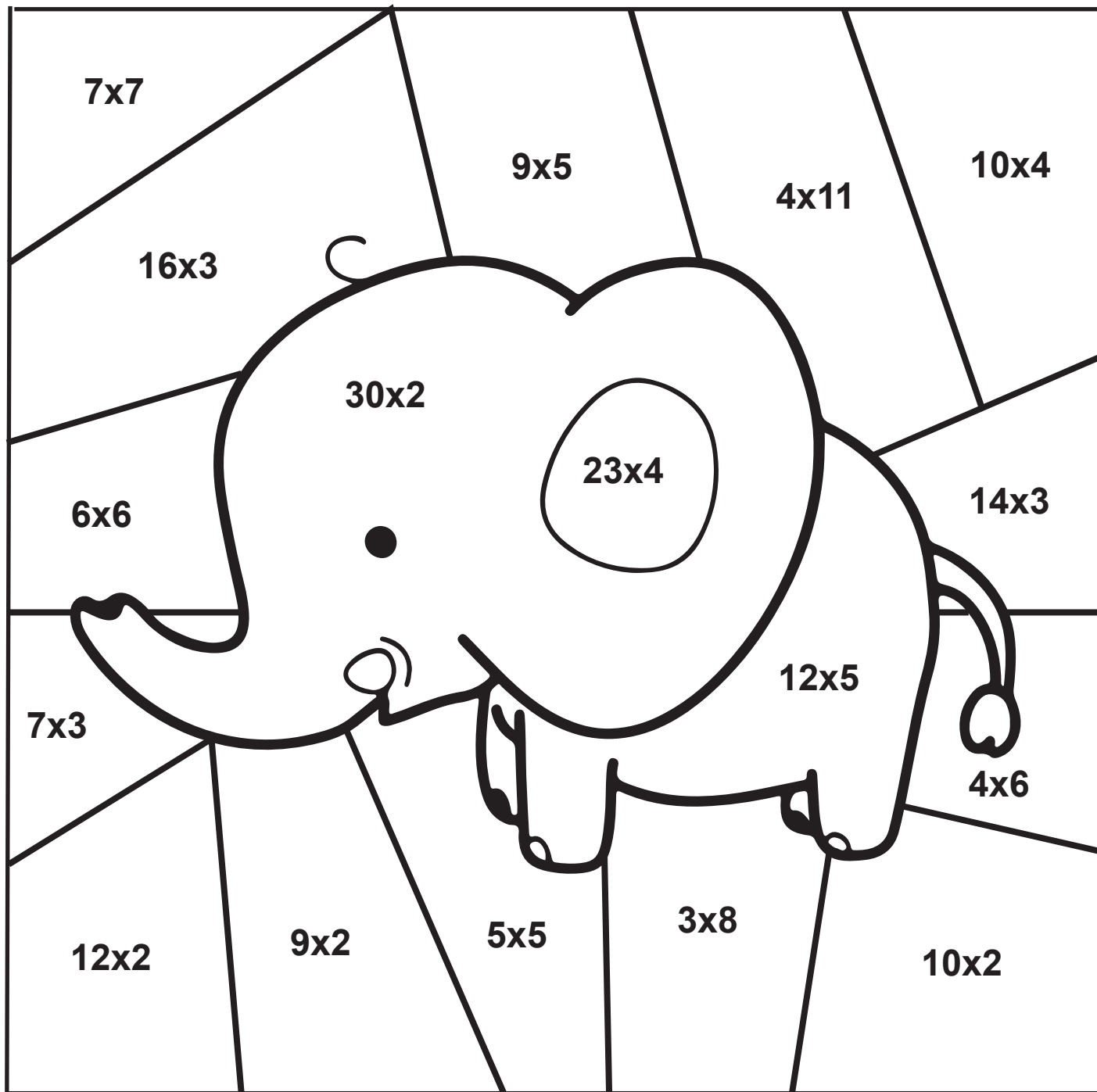
Colorea los helados que tengan resultados de la tabla del 7.



Completa las siguientes multiplicaciones.

- $3 \times 4 =$
- $5 \times 8 =$
- $3 \times 6 =$
- $6 \times 10 =$
- $4 \times 5 =$
- $9 \times 4 =$
- $10 \times 7 =$
- $5 \times 9 =$
- $8 \times 6 =$
- $9 \times 3 =$

Realiza las multiplicaciones y colorea según el resultado.



©www.materialparamaestros.com

VERDE 01 hasta 25

GRIS 51 hasta 75

AZUL 26 hasta 50

ROSA 76 hasta 100

Completa las siguientes multiplicaciones.

$5 \times 2 = \square$

$8 \times 1 = \square$

$9 \times 3 = \square$

$4 \times 10 = \square$

$8 \times 4 = \square$

$5 \times 9 = \square$

$10 \times 3 = \square$

$7 \times 7 = \square$

$6 \times 6 = \square$

$3 \times 3 = \square$

$2 \times 4 = \square$

$7 \times 5 = \square$

$4 \times 2 = \square$

$7 \times 10 = \square$

$2 \times 9 = \square$

$6 \times 9 = \square$


$10 \times 1 = \square$

$8 \times 8 = \square$

$6 \times 2 = \square$

$7 \times 6 = \square$

Colorea las flores que correspondan a los resultados de la tabla del 9.



Completa las siguientes multiplicaciones.

$2 \times \underline{\quad} = 8$

$\underline{\quad} \times 5 = 35$

$4 \times 2 = \underline{\quad}$

$\underline{\quad} \times 10 = 70$

$2 \times \underline{\quad} = 18$

$6 \times 9 = \underline{\quad}$

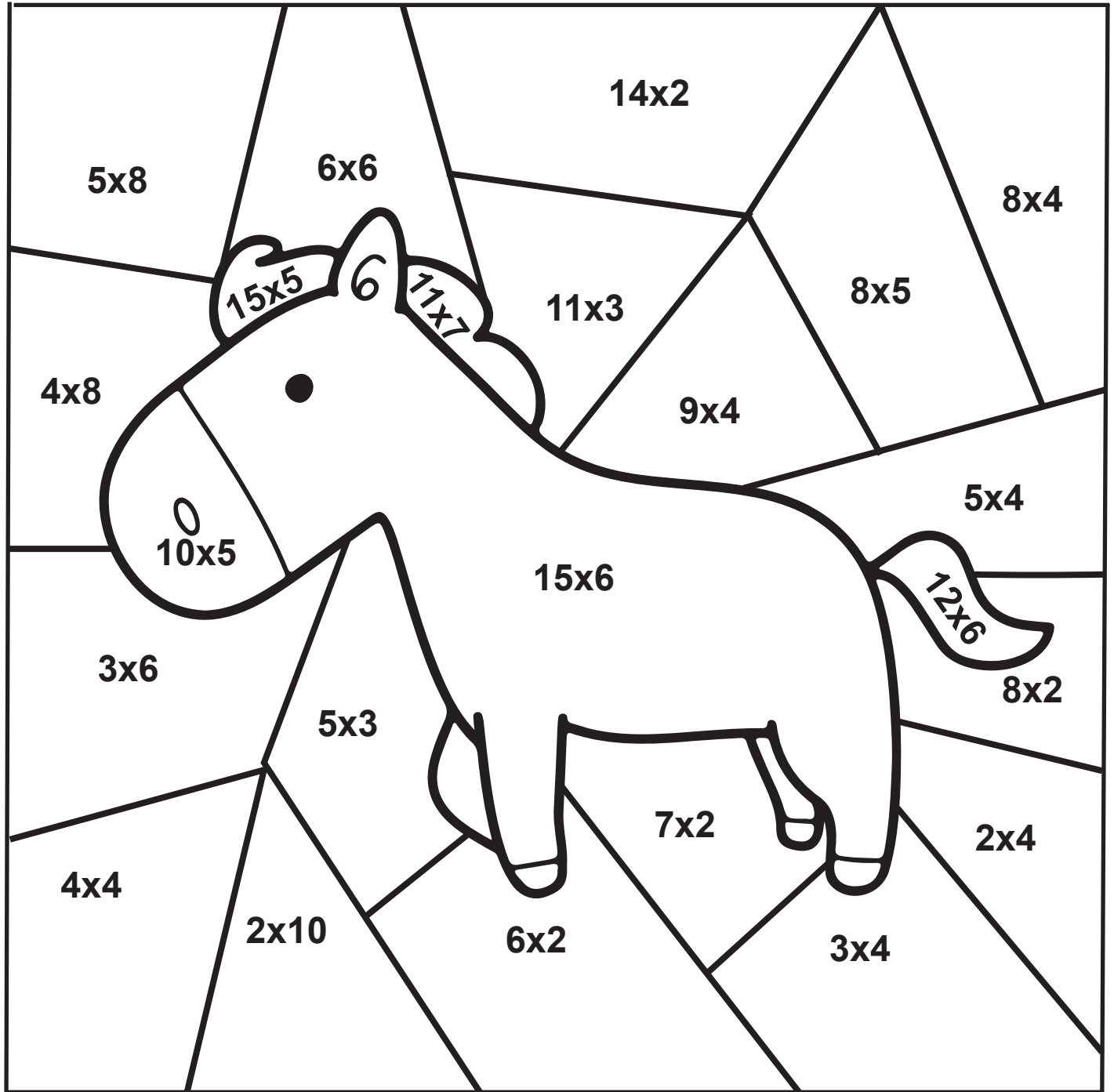
$10 \times \underline{\quad} = 10$

$\underline{\quad} \times 8 = 64$

$6 \times 2 = \underline{\quad}$

$\underline{\quad} \times 6 = 42$

Realiza las multiplicaciones y colorea según el resultado.



©www.materialparamaestros.com

VERDE 01 hasta 20

AZUL 21 hasta 40

ROSA 41 hasta 60

NEGRO 61 hasta 80

CAFE 81 hasta 100

Completa las siguientes multiplicaciones.

$7 \times 4 = \square$

$9 \times 6 = \square$

$8 \times 5 = \square$

$2 \times 2 = \square$

$3 \times 9 = \square$

$7 \times 9 = \square$

$8 \times 8 = \square$

$4 \times 5 = \square$

$8 \times 1 = \square$

$7 \times 6 = \square$

$5 \times 8 = \square$

$3 \times 3 = \square$

$8 \times 7 = \square$

$7 \times 3 = \square$

$5 \times 3 = \square$

$2 \times 6 = \square$

$10 \times 8 = \square$

$4 \times 8 = \square$

$9 \times 8 = \square$

$7 \times 1 = \square$


Colorea las flores que correspondan a los resultados de las tablas del 6 y 8.



Colorea los resultados de la tabla del 5 y 6.

5	9	10	2	8	6	4	3	7	1
44	46	49	50	43	42	45	48	47	41
25	28	30	21	29	22	27	24	23	26
36	32	35	39	37	38	31	33	34	40
18	15	11	16	12	20	19	13	17	14
51	60	54	56	52	55	58	59	57	53
99	92	95	97	96	93	98	94	100	91
71	79	73	75	77	76	72	74	80	78
90	82	84	86	88	81	87	83	89	85
66	68	62	64	70	61	63	67	65	69

Completa la siguiente serie con los resultados de la tabla del 2.



4



16

Colorea los corazones que tengan resultados de la tabla del 3.



Completa las siguientes multiplicaciones.

$5 \times 4 = \square$

$8 \times 8 = \square$

$3 \times 6 = \square$

$2 \times 10 = \square$

$7 \times 5 = \square$


$9 \times 4 = \square$

$10 \times 7 = \square$

$7 \times 9 = \square$

$2 \times 6 = \square$

$4 \times 3 = \square$



MATERIAL RECORTABLE

¡MULTIPLICA Y REGORTA!

Escribe el resultado en la multiplicación, después recorta los resultados y pégalos donde corresponden.


x	5	7	2	9
7				
3				
4				



¡MULTIPLICA Y REGORTA!

Escribe el resultado en la multiplicación, después recorta los resultados y pégalos donde corresponden.


x	6	3	4	8
5				
2				
9				



¡MULTIPLICA Y REGORTA!

Escribe el resultado en la multiplicación, después recorta los resultados y pégalos donde corresponden.

x	6	3	5	8
2	a			
3				a
4	b	b		

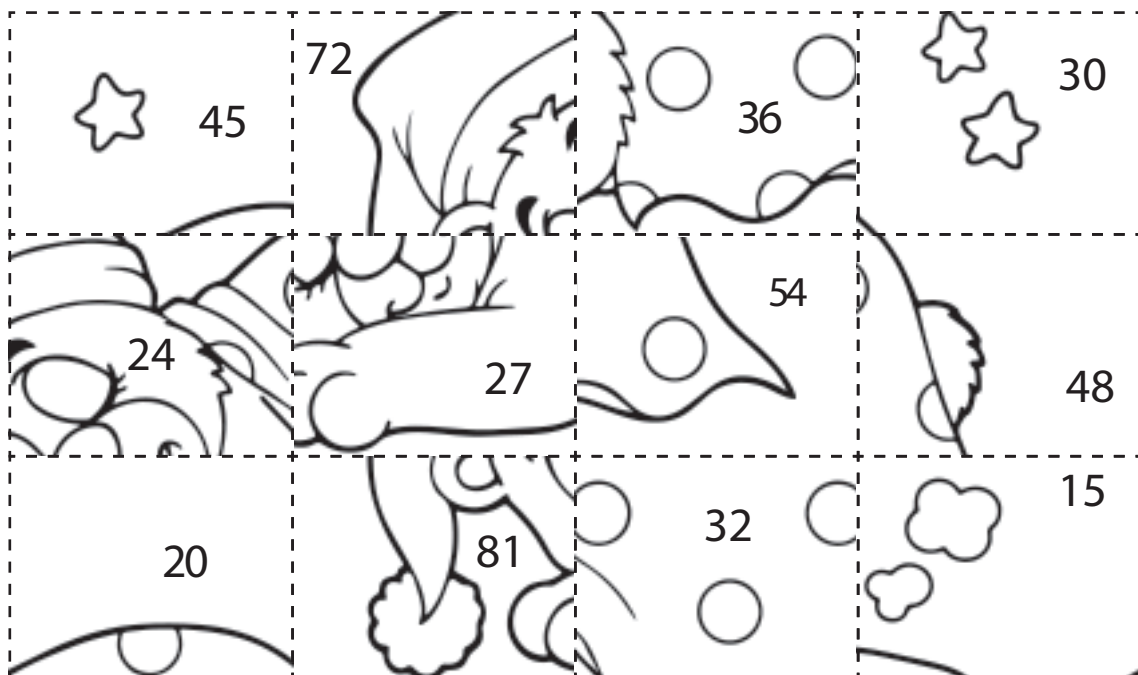


¡MULTIPLICA Y REGORTA!

Escribe el resultado en la multiplicación, después recorta los resultados y pégalos donde corresponden.

x	9	3	4	6
5				
8				
9				


www.materialparamaestros.com



¡MULTIPLICA Y REGORTA!

Escribe el resultado en la multiplicación, después recorta los resultados y pégalos donde corresponden.

x	2	5	8	9
3				
6				
9				



¡MULTIPLICA Y REGORTA!

Escribe el resultado en la multiplicación, después recorta los resultados y pégalos donde corresponden.

x	2	7	8	5
4				
8				
2				

www.materialparamaestros.com




Tabla del 2

Recorta y pega los resultados.

$2 \times 4 = \square$

$2 \times 2 = \square$

$2 \times 9 = \square$

$2 \times 5 = \square$

$2 \times 1 = \square$

$2 \times 6 = \square$

$2 \times 7 = \square$

$2 \times 10 = \square$

$2 \times 3 = \square$

$2 \times 8 = \square$



14

4

12

18

16

10

2

8

6

20

Tabla del 3

Recorta y pega los resultados.

$3 \times 4 = \square$

$3 \times 2 = \square$

$3 \times 9 = \square$

$3 \times 5 = \square$

$3 \times 1 = \square$

$3 \times 6 = \square$

$3 \times 7 = \square$

$3 \times 10 = \square$

$3 \times 3 = \square$

$3 \times 8 = \square$



15

3

6

18

24

30

12

27

9

21

Tabla del 4

Recorta y pega los resultados.

$4 \times 5 = \square$

$4 \times 2 = \square$

$4 \times 9 = \square$

$4 \times 8 = \square$

$4 \times 1 = \square$

$4 \times 6 = \square$

$4 \times 3 = \square$

$4 \times 10 = \square$

$4 \times 7 = \square$

$4 \times 4 = \square$



8

4

12

20

16

24

32

28

40

36

Tabla de 5

Recorta y pega los resultados.

$5 \times 5 = \square$

$5 \times 2 = \square$

$5 \times 9 = \square$

$5 \times 8 = \square$

$5 \times 1 = \square$

$5 \times 6 = \square$

$5 \times 3 = \square$

$5 \times 10 = \square$

$5 \times 7 = \square$

$5 \times 4 = \square$



50

45

40

35

30

25

20

15

10

5

Tabla de 6

Recorta y pega los resultados.

$6 \times 5 = \square$

$6 \times 2 = \square$

$6 \times 9 = \square$

$6 \times 8 = \square$

$6 \times 1 = \square$

$6 \times 6 = \square$

$6 \times 3 = \square$

$6 \times 10 = \square$

$6 \times 7 = \square$

$6 \times 4 = \square$



60

18

42

36

30

24

54

48

6

12

Tabla del 7

Recorta y pega los resultados.

$7 \times 4 = \square$

$7 \times 2 = \square$

$7 \times 9 = \square$

$7 \times 5 = \square$

$7 \times 1 = \square$

$7 \times 6 = \square$

$7 \times 7 = \square$

$7 \times 10 = \square$

$7 \times 3 = \square$

$7 \times 8 = \square$



42

49

56

63

70

7

14

21

28

35

Tabla del 8

Recorta y pega los resultados.

$8 \times 4 = \square$

$8 \times 2 = \square$

$8 \times 9 = \square$

$8 \times 5 = \square$

$8 \times 1 = \square$

$8 \times 6 = \square$

$8 \times 7 = \square$

$8 \times 10 = \square$

$8 \times 3 = \square$

$8 \times 8 = \square$



80

72

64

56

48

24

32

40

16

8

Tabla del 9

Recorta y pega los resultados.

9x4

=

9x2

=

9x9

=

9x5

=

9x1

=

9x6

=

9x7

=

9x10

=

9x3

=

9x8

=



42

49

56

63

70

7

14

21

28

35

TABLAS DE MULTIPLICAR DEL 2 Y 3



2×9

3×5

2×4

3×1



2

4

6

8

2×10

3×2

3×4

2×5

10

12

14

16

2×7

3×8

2×3

3×3

18

20

3

6

3×10

2×8

3×7

2×2

9

12

15

18

2×6

2×1

3×6

3×9

21

24

27

30



TABLAS DE MULTIPLICAR DEL 4 Y 5



4x9	4x10	4	
4x6	4x5	16	20
5x2	5x10	28	40
5x8	5x6	36	50
4x2	4x7	10	15
4x8	4x3	25	30
4x4	5x3	40	45

TABLAS DE MULTIPLICAR DEL 6 Y 7



7×1

6×5

7×9

6×4

7×8

6×8

7×3

6×1

7×10

7×7

7×2

7×4

6×9

6×10

6×2


6×6

6×3


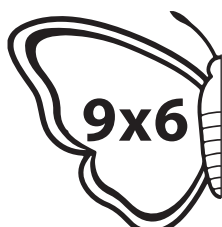
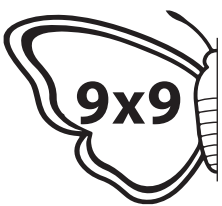
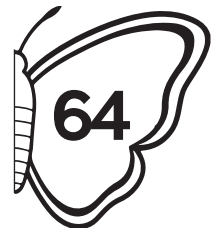
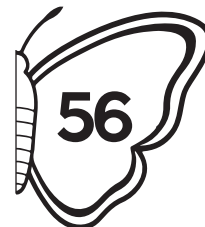
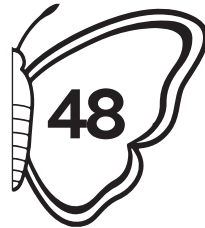
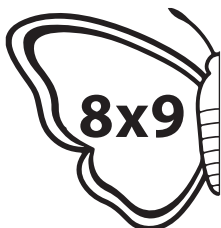
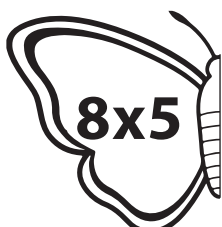
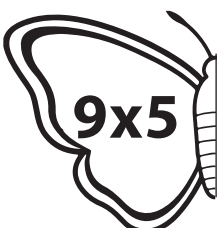
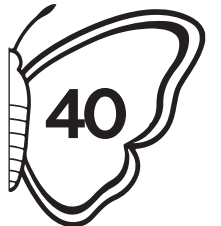

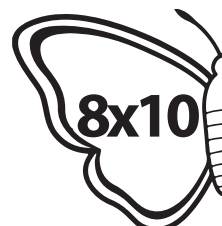
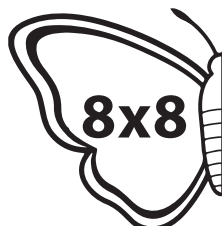


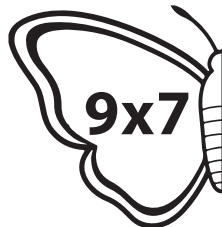
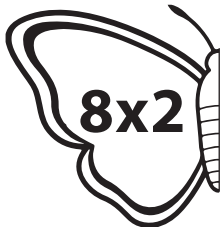

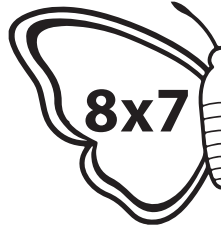

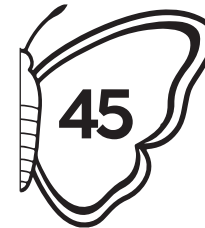
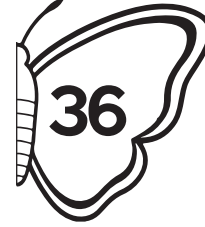
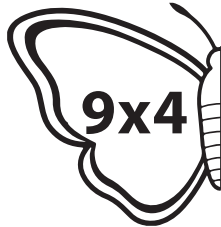
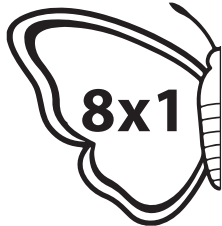
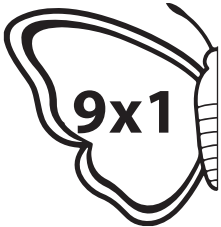

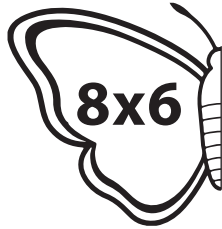
7×5

7×6




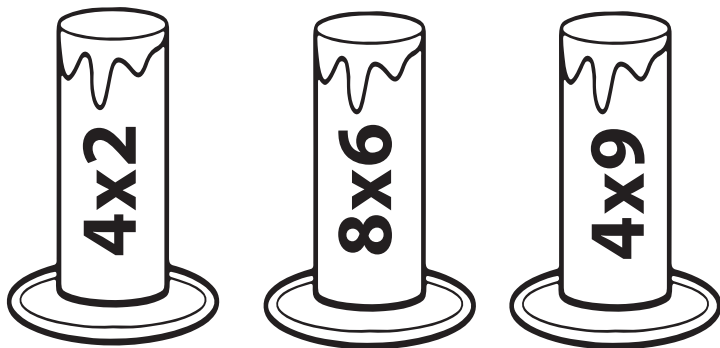




6×7



TABLAS DE MULTIPLICAR DEL 8 Y 9



TABLAS DE MULTIPLICAR



TABLAS DE MULTIPLICAR

