

# Crucigrama de divisiones



NOMBRE: \_\_\_\_\_ FECHA: \_\_\_\_\_

Realiza las divisiones y escribe el resultado con letra donde le corresponde.

1.  $400 \div 2 =$

2.  $549 \div 3 =$

3.  $398 \div 2 =$

4.  $510 \div 5 =$

5.  $606 \div 3 =$

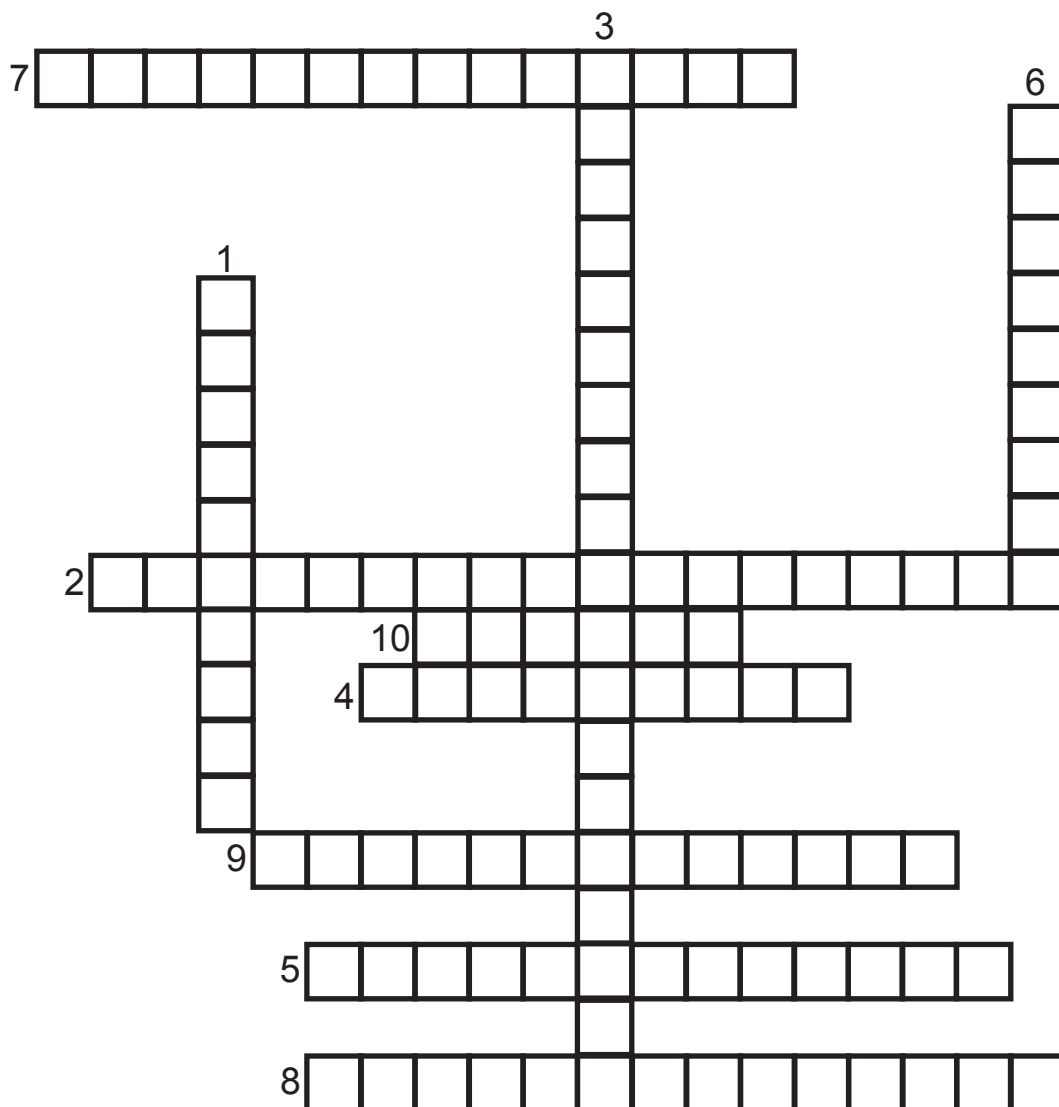
6.  $612 \div 6 =$

7.  $1640 \div 8 =$

8.  $832 \div 4 =$

9.  $255 \div 5 =$

10.  $80 \div 4 =$



# Crucigráma de divisiones



NOMBRE: \_\_\_\_\_ FECHA: \_\_\_\_\_

Realiza las divisiones y escribe el resultado con letra donde le corresponde.

1.  $120 \div 2 =$

2.  $185 \div 5 =$

3.  $186 \div 3 =$

4.  $660 \div 12 =$

5.  $832 \div 4 =$


6.  $216 \div 6 =$

7.  $585 \div 13 =$

8.  $156 \div 6 =$

9.  $75 \div 3 =$

10.  $80 \div 4 =$



# Crucigrama de divisiones



NOMBRE: \_\_\_\_\_ FECHA: \_\_\_\_\_

Realiza las divisiones y escribe el resultado con letra donde le corresponde.

1.  $630 \div 7 =$

2.  $828 \div 9 =$

3.  $819 \div 9 =$

4.  $325 \div 5 =$

5.  $300 \div 5 =$


6.  $120 \div 4 =$

7.  $832 \div 4 =$

8.  $144 \div 18 =$

9.  $156 \div 13 =$

10.  $4040 \div 20 =$



# Crucigrama de divisiones



NOMBRE: \_\_\_\_\_ FECHA: \_\_\_\_\_

Realiza las divisiones y escribe el resultado con letra donde le corresponde.

1.  $189 \div 9 =$

2.  $297 \div 11 =$

3.  $160 \div 8 =$

4.  $400 \div 2 =$

5.  $320 \div 2 =$

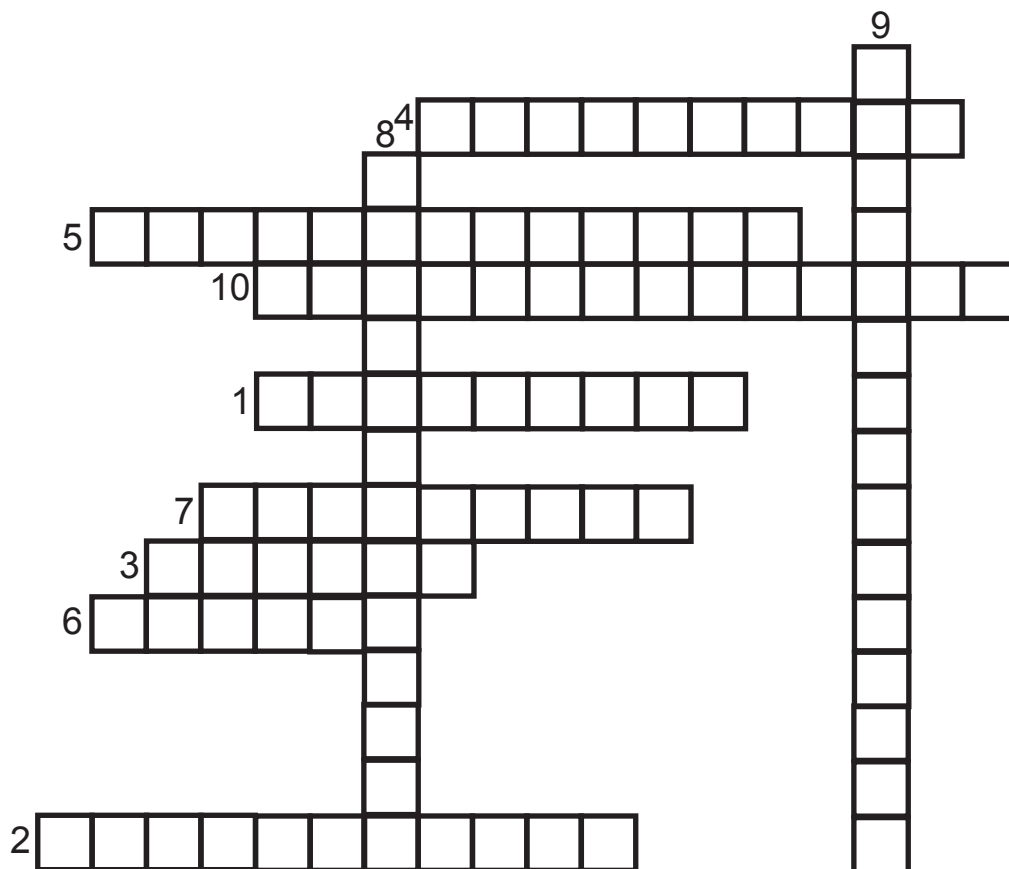
6.  $20 \div 5 =$

7.  $510 \div 5 =$

8.  $4040 \div 20 =$

9.  $1640 \div 8 =$

10.  $3654 \div 18 =$



# Crucigráma de divisiones



NOMBRE: \_\_\_\_\_ FECHA: \_\_\_\_\_

Realiza las divisiones y escribe el resultado con letra donde le corresponde.

1.  $250 \div 10 =$

2.  $48 \div 12 =$

3.  $670 \div 5 =$

4.  $180 \div 15 =$

5.  $400 \div 10 =$

6.  $114 \div 3 =$

7.  $297 \div 9 =$

8.  $432 \div 12 =$

9.  $240 \div 6 =$

10.  $272 \div 8 =$

